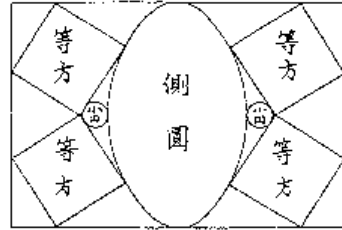
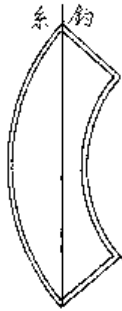
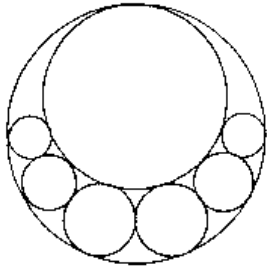


研究授業事前課題



湖流田新三郎蔵書門人

四六 川越市山田府川一五三八 八幡神社

平時宗致三郎蔵書三冊

(下に六十三名の門人名を記す)

八七

●今有如图圓內容諸圓以爲等方
乃不動求其 其外圓徑若干問諸徑區
數得至止圓徑術如何

答曰如左術

術曰以諸圓數除外圓徑得若干

止圓徑合問

距離合問

若三除以減大奇半乘圓徑得

若以大小奇差除他徑圓徑

以一個換那等放術求其小

若以大小奇差除他徑圓徑

距離術如何

●今有如图扇形欲使中心點

約之權平大小奇各若干紙徑若干問

距離術如何

得圓徑合問

平加他徑以減長斷以圓徑之

以除之徑同即一個其直子乘

平方圓之者

平方圓之者以減五分五和餘半

除之區之以減一徑除元以

餘之區之以減一徑除元以

餘之區之以減一徑除元以

餘之區之以減一徑除元以

餘之區之以減一徑除元以

餘之區之以減一徑除元以

餘之區之以減一徑除元以

餘之區之以減一徑除元以

事前課題は、一番左の問題の解法に関係している

読めるか



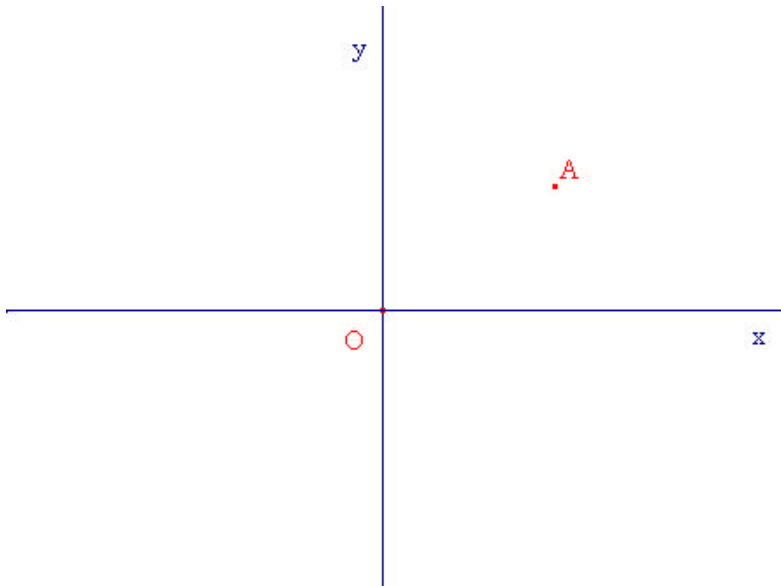
年 組 番 氏名

平面上の変換に関する課題

変換とは・・・平面上の各点を、ある規則に従って同じ平面上の点を移すことをいう。

座標平面上の点 A に対して、次の各点を描いてみよう。

- (1) 原点 O に対して対称に移動した点 B
- (2) X 軸に対して対称に移動した点 C
- (3) y 軸に対して対称に移動した点 D



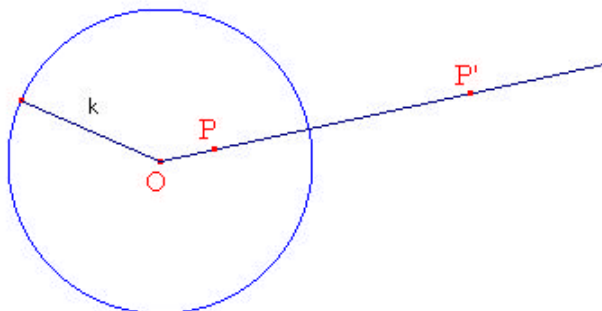
ここで、(1)では点、(2)(3)では直線に対しての変換を考えた。

次に、円に関しての変換を考えたい。この変換の規則を次のように定める。

定点 O を中心とする半径 k の円が与えられたとする。(O 以外の) 任意の点 P の反転像 P' は、半直線 OP 上
にあって、O からの距離 OP' が、

$$OP \cdot OP' = k^2$$

をみたすような点とする。



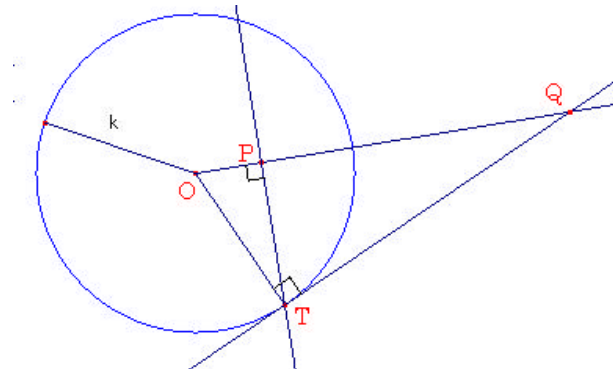
定点 O を中心とし、半径 k の円 $\odot O$ があり、 O と異なる円 $\odot O$ 内の点を P とする。 P を通って OP に垂直な弦を引き、その端を T とし、 T を通って反転円に接線を引いて、 OP との交点を Q とすると、三角形 ()

と三角形 () は相似であるから、

$$OP : () = () : OQ$$

$$OP \cdot OQ = ()$$

よって、点 Q が点 P の反転像 P' である。

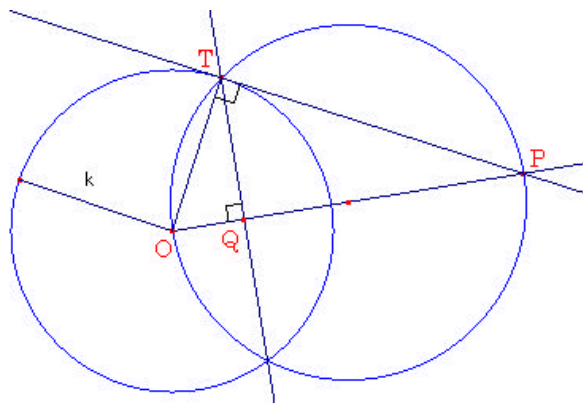


次に、点 P が円 $\odot O$ 外の点の場合について考えてみよう。 OP を直径とする円と円 $\odot O$ との交点の1つを T とする (と、 () の定理により、 $\angle OTP = ()$ 度であり、点 T は P から円 $\odot O$ へ引いた接線の接点になる)。 T から OP へ下ろした垂線の足を Q とすると、三角形 () と三角形 () は相似であるから、

$$OP : () = () : OQ$$


$$OP \cdot OQ = ()$$

よって、点 Q が点 P の反転像 P' である




これらのことから、次のことが分かる。

- 1 点 O を除いた反転円 $\odot O$ の内部の点は、反転円 $\odot O$ の () へ移る。
- 2 反転円 $\odot O$ の外部の点は、反転円 $\odot O$ の () へ移る。
- 3 点 P の反転像 P' の反転像は () である。



研究授業資料



年 組 番 氏名

Euler	Galileo	Kepler
Leibniz	Newton	Pythagoras
Taylor	Descartes	Archimedes

1 . Pappus of Alexandria (アレクサンドリアのパッポス)・・・A.D.300 頃

ギリシアの偉大な数学者たちの最後を飾る人物はパッポスである。彼については、紀元後 320 年頃に『数学集成』という大著を編纂したということしか知られていない。この著作は 10 巻のうち 8 巻が残っており、それらはまさに情報の宝庫である。何人かの重要なギリシアの数学者についてその名前だけ伝えており、もしその記述がなければ彼らの存在は全く我々には知られなかったろう。

(数学を築いた天才たち 上 スチュワート・ホリングデール著 講談社より)

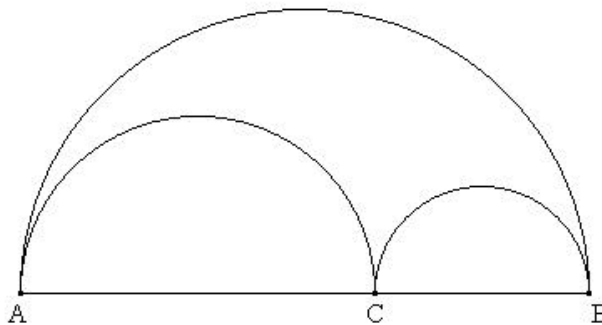
『数学集成』あるいは『集成』

“集成”は、ギリシア幾何学の全範囲を包括すると同時に、百科辞典というよりむしろ手引書あるいは入門書である。この集成は、独立したものというよりむしろ(当時存在していた)原著といっしょに読まれるようにつくられたものであった。しかしながら、ある論題の歴史、たとえば立方体の倍積とか、二つの比例中項を見出す問題とかの歴史の場合にはその解の写しがとられている。たぶんそれらの解は、すでにかなり入手困難で、散逸してしまった資料から集められねばならなかったからであろう。入手しやすい古典などが記述される場合ですら、別解とか、よりよい証明とか、拡張とかが与えられている。著者としては、非常な独創性を装おうとせず、全巻にわたって、論題の完全な理解、判断の独自性、技術の熟達とが示されている。その文体は簡潔、明瞭である。要するにパッポスは、洗練された多才の数学者で古典ギリシア幾何学のすぐれた代表者として目だった存在である。

(復刻版 ギリシア数学史 T.L.ヒース著 共立出版より)

靴屋のナイフ(アルベロス)の作図題

第 4 巻の第 2 項は、きわめて興味ある独創的なものである。ここには、その形からみて<靴屋のナイフ>(アルベロス)といわれる図形に内接する円に関連した作図題がある。もし、一つの直線 AB が C で一般に等しくない二つの部分に分けられるとし、さらに AB, AC, CB を直径とする半円を、AB の同じ側に書くとすれば、この三つの半円に囲まれた図形が、<靴屋のナイフ>である。<靴屋のナイフ>とそれに内接する円についてのいくつかの命題は、アルキメデスの名前でアラビアに伝えられた“補助定理の書”中に見出される。



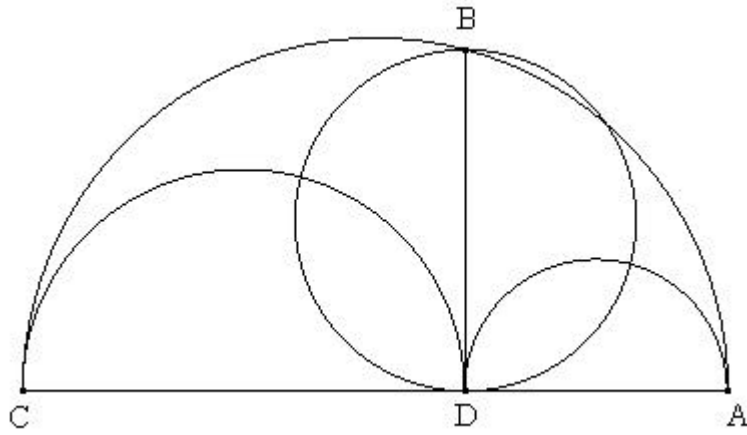
(復刻版 ギリシア数学史 T.L.ヒース著 共立出版より)

まずは、アルキメデスの“補助定理の書”で扱われている図形の問題について考えてみよう。

2. アルキメデスの“補助定理集”(*Liber Assumptorum*)

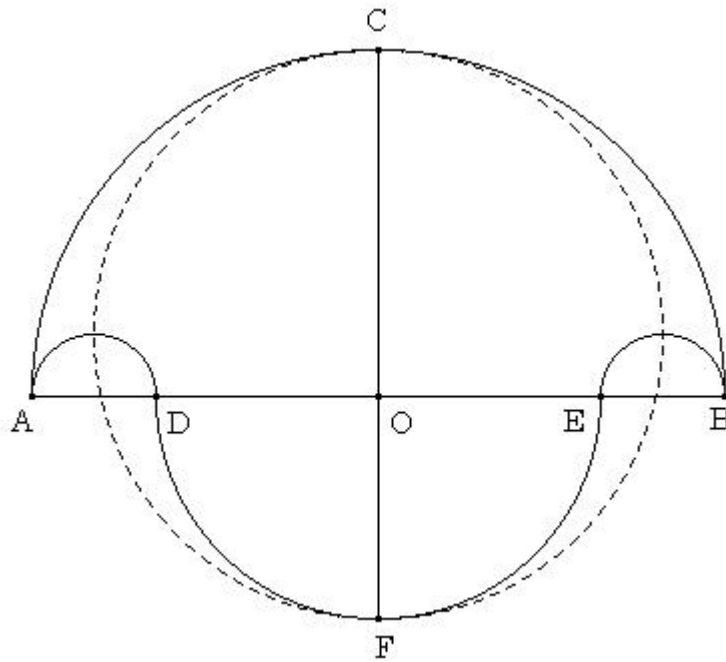
『靴屋のナイフ(アルベロス)』: 円環問題

「ABC を半円とし、直径 AC 上に AD と DC を直径とする半円を書き、AC に垂直に垂線 BD をたてる。アルベロス(大きな半円と2つの小さな半円の周囲によって囲まれる図形)の面積は、線分 BD を直径とする円の面積に等しい」



『塩入れ(サリノン)』

「線分 AB、AD、DE、および EB に対し、それぞれを直径とする半円を描く。ただし $AD=EB$ とする。すると、塩入れの囲む面積全体(半円弧だけで囲まれている)は、その図形の対称軸を直径とする円の面積に等しくなっている」



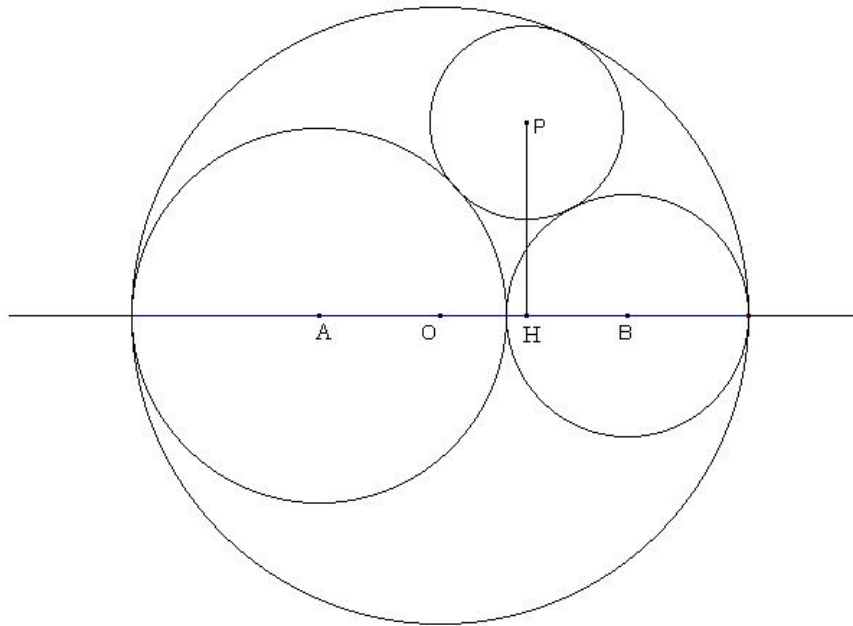
3. 「靴屋のナイフ (アルベロス)」 に注目した問題

アルキメデスの『靴屋のナイフ (アルベロス)』をもとにした問題が現在の数学でも使われている

アルベロスの問題に関する入試問題より

図のように3個の円 A, B, P は互いに外接し、円 O に内接している。円 O, A, B の中心 O, A, B は図のように一直線上にあり、半径はそれぞれ $5, 3, 2$ である。点 P から直線 AB への垂線 PH をひき、線分 BH の長さを x 、円 P の半径を y とする。

【99 お茶の水女子大附属高校改】



(1) x, y の関係式を求めてみよう。

(2) x , y の値を求めてみよう.

(3) 円 P の半径と垂線 PH の長さの関係を求めてみよう.

4. 「数学集成」第4巻・第2項 (ギリシア語/英語訳)

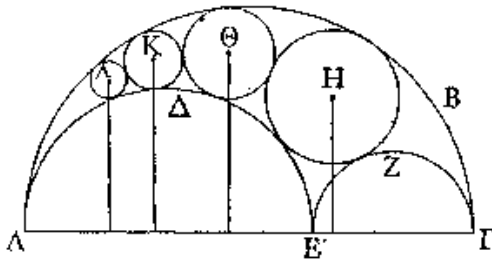
XXIV. REVIVAL OF GEOMETRY:
PAPPUS OF ALEXANDRIA

XXIV. REVIVAL OF GEOMETRY:
PAPPUS OF ALEXANDRIA

(g) CIRCLES INSCRIBED IN THE ἄρβηλος

Ibid. iv. 14. 19, ed. Hultsch 208. 9-21

Φέρεται ἐν τισιν ἀρχαίαι πρότασις τοιαύτη ὑποκείμενη τρία ἡμικύκλια ἐφαπτόμενα ἀλλήλων



τὰ ΑΒΓ, ΑΔΕ, ΕΖΓ, καὶ εἰς τὸ μεταξύ τῶν περιφερειῶν αὐτῶν χωρίον, ὃ δὴ καλοῦσιν ἄρβηλον,

ἐγγεγραμμένοι κύκλοι ἐφαπτόμενοι τῶν τε ἡμικυκλίων καὶ ἀλλήλων ὅσοιδηποῦν, εἰς οἷς περὶ κέντρα τὰ Η, Θ, Κ, Α· δεῖξαι τὴν μὲν ἀπὸ τοῦ Η κέντρου κάθετον ἐπὶ τὴν ΑΓ ἴσην τῇ διαμέτρῳ τοῦ περὶ τὸ Η κύκλου, τὴν δ' ἀπὸ τοῦ Θ κάθετον διπλασίῳ τῆς διαμέτρῳ τοῦ περὶ τὸ Θ κύκλου, τὴν δ' ἀπὸ τοῦ Κ κάθετον τριπλασίῳ, καὶ τὰς ἐξῆς κατένυξ τῶν οἰκείων διαμέτρων πολλαπλασίας κατὰ τοὺς ἐξῆς μονάδι ἀλλήλων ὑπερέχοντας ἀριθμοὺς ἐπ' ἀπείρου γινόμενης τῆς τῶν κύκλων ἐγγραφῆς.

(g) CIRCLES INSCRIBED IN THE ἄρβηλος

Ibid. iv. 14. 19, ed. Hultsch 208. 9-21

There is found in certain [books] an ancient proposition to this effect: Let $AB\Gamma$, $A\Delta E$, $EZ\Gamma$ be supposed to be three semicircles touching each other, and in the space between their circumferences, which

is called the "leather-worker's knife," let there be inscribed any number whatever of circles touching both the semicircles and one another, as those about the centres H , Θ , K , A ; to prove that the perpendicular from the centre H to $A\Gamma$ is equal to the diameter of the circle about H , the perpendicular from Θ is double of the diameter of the circle about Θ , the perpendicular from K is triple, and the [remaining] perpendiculars in order are so many times the diameters of the proper circles according to the numbers in a series increasing by unity, the inscription of the circles proceeding without limit.*

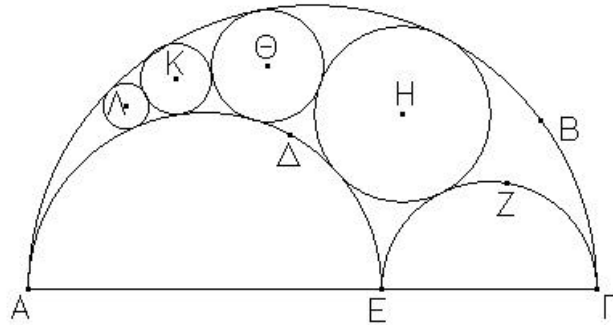
* Three propositions (Nos. 4, 5 and 6) about the figure known as the ἄρβηλος from its resemblance to a leather-worker's knife are contained in Archimedes' *Libri Assumptorum*, which has survived in Arabic. They are included as particular cases in Pappus's exposition, which is unfortunately too long for reproduction here. Professor D'Arcy W. Thompson (*The Classical Review*, lv. (1942), pp. 75-76) gives reasons for thinking that the ἄρβηλος was a saddler's knife rather than a shoemaker's knife, as usually translated.

ギリシア文字

文字	発音	文字	発音	文字	発音		
A	α	άλφα	Κ	κ	κάπε		
B	β	βίτα, βέιτα	Λ	λ	λάμδα		
Γ	γ	γάμμα	Μ	μ	μίου, μου		
Δ	δ	δέιτα	Ν	ν	νίου, ну		
Ε	ε, ε	έpsilon/-lan, epsáilan	Ξ	ξ	ξαι, ksai		
Ζ	ζ	ζίτα	Ο	ο	όumikron, oumái-		
Η	η	ίτα, éiτα	Π	π, π	παι		
Θ	θ, θ	θίτα, θέiτα	Ρ	ρ	ρου		
Ι	ι	ιούτα, αίουτα	Σ	σ, σ	σίγμα		
					Τ	τ	tau, to
					Υ	υ	jú:psilan, ju:psáilan
					Φ	φ, φ	fai
					Χ	χ	kai
					Ψ	ψ	ψsai, psi/-sai
					Ω	ω	óumiga, ouméga/-mi-

5. 「数学集成」第4巻・第2項（日本語訳）

(g) 内に接する円
 Ibid. . 14. 19, ed. Hultsch 208. 9-21

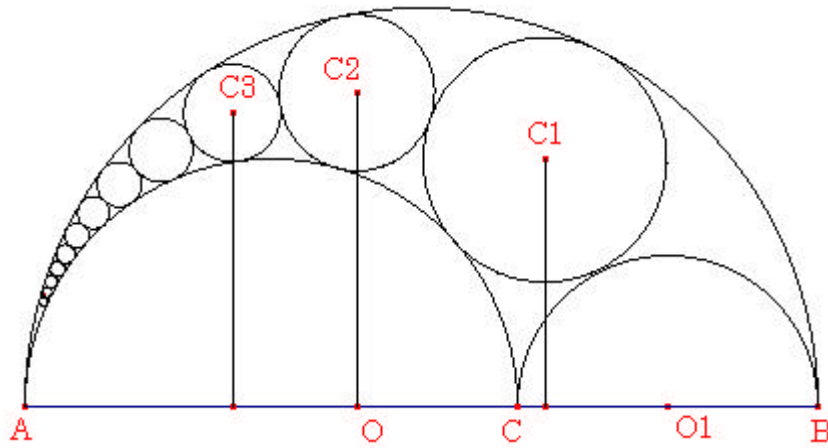


ある巻においてこの結果への古代の命題がある： 、 、 をそれぞれ接している3つの半円であると仮定する。それら3つの半円の間隔に、中心 、 、 を中心とする円列のように、半円と円列の両方に接している円がいくつでも内接しているとする。（その間隔は“leather-worker’s knife”と呼ばれる。）；そして以下のことを証明しなさい。中心 から への垂線は についての円の直径に等しく、 からの垂線は についての円の直径の2倍に等しく、 からの垂線は3倍に等しい。残りの垂線は、限りなく生ずる円の内接によって単一に増加する円列の順番に従って、順序正しくそれと同数倍の適当な円の直径に等しい。

その類似点から leather-worker’s knife への (Nos. 4, 5 and 6)はアルキメデスの Liber Assumptorum に含まれていて、それはアラビア語で残っている。それらの命題はパップスの説明における特別な場合としても含まれているが、残念ながらここで複製するにはあまりにも時間がかかりすぎる。D’Arcy W. Thompson 教授 (The Classical Review, lvi. (1942), pp. 75-76) は、そして、その理由を示している。

6. 円環問題の拡張

パップスはアルキメデスの『靴屋のナイフ (アルベロス)』: 円環問題を拡張させた



内接円 C_1, C_2, C_3, \dots を順に描いてどれもが半円 AB と AC に接し、かつ円自身も順に接しあっているようにし、これらの円 C_1, C_2, C_3, \dots の直径をそれぞれ d_1, d_2, d_3, \dots 、中心 C_1, C_2, C_3, \dots から AB に下ろした垂線の長さを p_1, p_2, p_3, \dots とすれば、

$$p_1 = d_1, p_2 = 2d_2, p_3 = 3d_3, \dots$$

となる

証明は反転を用いる

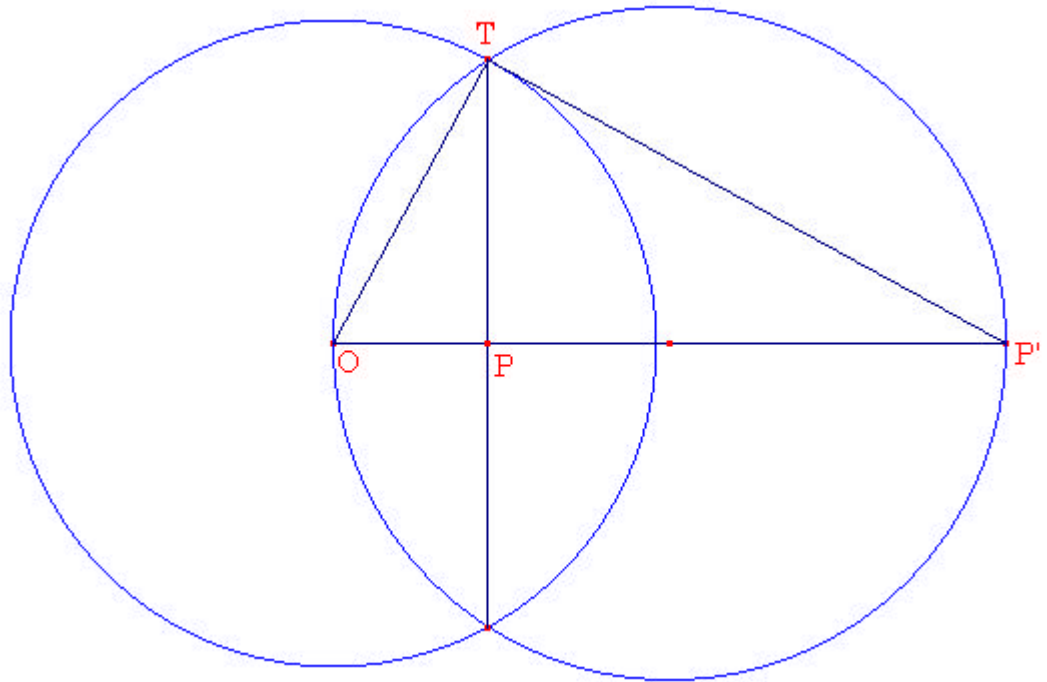
7. 反転 (inversion) とは

反転 (inversion)・・・マグヌス (L.J.Magnus) が1831年に発明

定点 O を中心とし半径 k の円が与えられたとする。そこで、(O 以外の) 任意の点 P の反転像 P' は半直線 OP 上にあって、 O からの距離 OP' が

$$OP \cdot OP' = k^2$$

をみたすような点であるとする。



(参考 「幾何学入門」 コクセター著 銀林浩訳 明治図書)

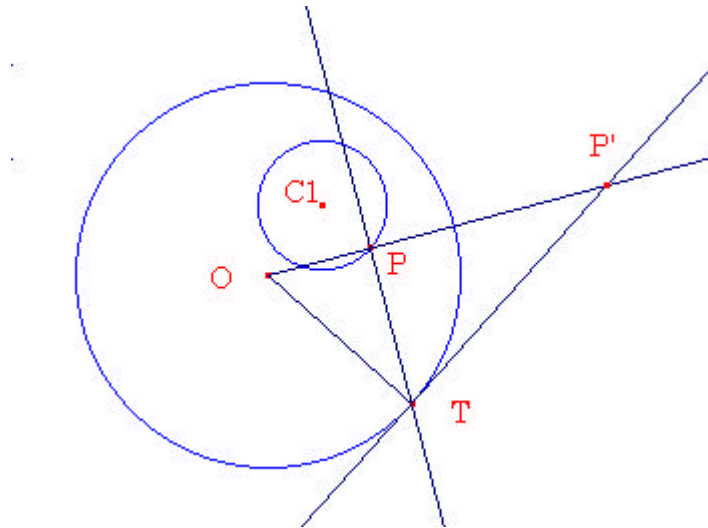
8. 反転を使って作図をしよう

反転とは・・・

定点 O を中心とする半径 k の円が与えられたとする。そこで、(O 以外の)任意の点 P の反転象 P' は半直線 OP 上にあって、 O からの距離 OP' が

$$OP \cdot OP' = k^2$$

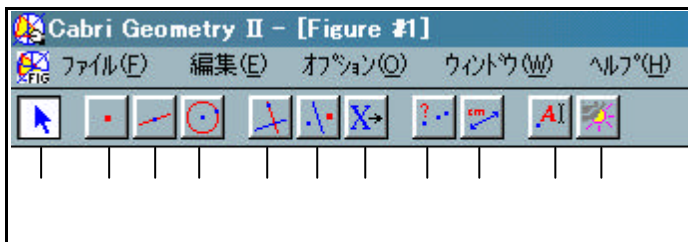
をみたすような点であるとする。



課題1 反転円内の円 C_1 を反転させてみよう。

(1) どんな図形になるか予想してみよう。

(2) 作図ツール Cabri Geometry (以下カブリ) を使って作図してみよう。



(作図方法)

- 1 点 O と点 P を通る半直線を引く
から **半直線** を選び、点 O 、点 P の順にクリックする。
- 2 点 P を通り半直線 OP に垂直な線を引く
から **垂線** を選び、点 P と、半直線 OP をクリックする。
- 3 円 O と2の垂線の交点を取る
から **交点** を選び、円 O と2の垂線をクリックし T とする。
- 4 点 O と点 T を結ぶ
から **線分** を選び、点 O と点 T をクリックする。
- 5 点 T を通り線分 OT に垂直な線を引く
から **垂線** を選び、点 T と線分 OT をクリックする。

6 点 P' を取る

から **交点** を選び、半直線 OP と 5 の垂線をクリックし、点 P' を取る。

7 P' の P に対する軌跡を描く

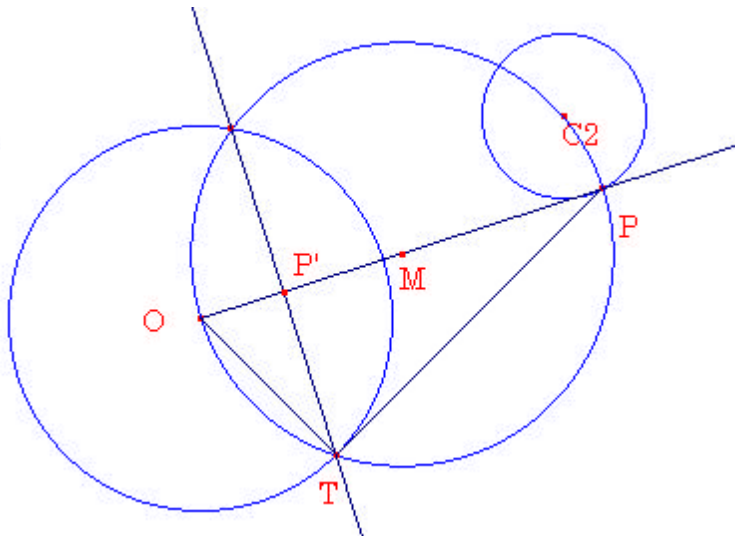
から **トレース オン/オフ** を選び、点 P' をクリックして点滅させる。

から **ポインタ** を選び、点 P をドラッグしながら円 C1 に沿って動かす。

(もっと詳しく見るために) から **軌跡** を選び、点 P'、点 P の順にクリックする。

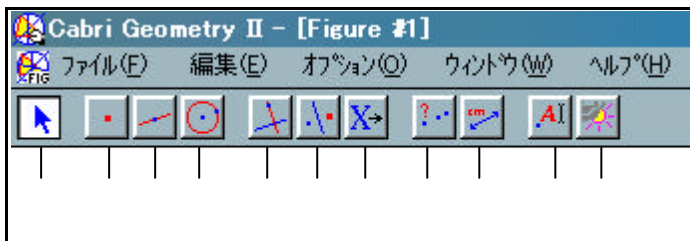
(3) 作図の結果、円 C1 はどんな図形に移りましたか。

課題 2 反転円外の円 C2 を反転させてみよう。
(事前課題を見ながらやってみよう。)



(1) どんな図形になるか予想してみよう。

(2) カブリ を使って作図してみよう。



(作図方法)

1 半直線 OP を描く

から **半直線** を選び、点 O、点 P の順にクリックする。

2 OP の中点 M を取る

から **中点** を選び、点 O と点 P をクリックする。

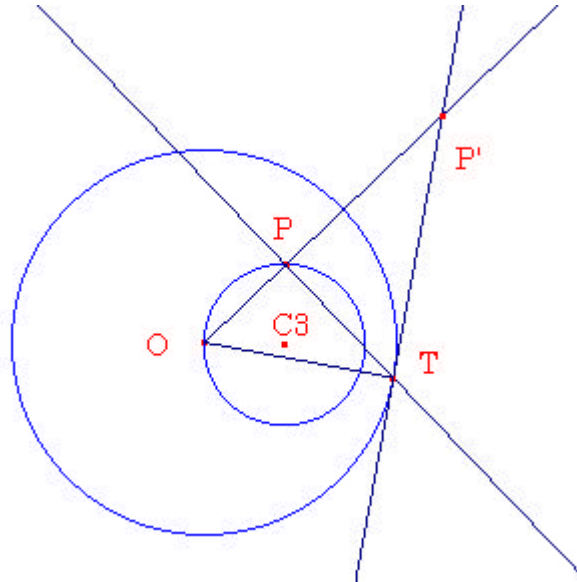
3 点 M を中心に直径 OP の円を描く

から **円** を選び、点 M、点 P (または点 O) をクリックする。

- 4 円 O と円 M の交点を取る
から **交点** を選び、円 O と円 M をクリックし、交点の 1 つを T とする。
- 5 線分 OT と線分 TP を描く
から **線分** を選び、点 O と点 T をクリックする。
から **線分** を選び、点 T と点 P をクリックする。
- 6 点 T を通り、線分 OP に垂直な線を描く
から **垂線** を選び、点 T、線分 OP をクリックする。
- 7 点 P' を取る
から **交点** を選び、5 の垂線と線分 OP をクリックし、交点 P' を取る。
- 8 課題 1 と同様に点 P' の軌跡を描く

(3) 作図の結果、円 C2 はどんな図形に移りましたか。

課題 3 反転の中心 O を通る円を反転してみよう。

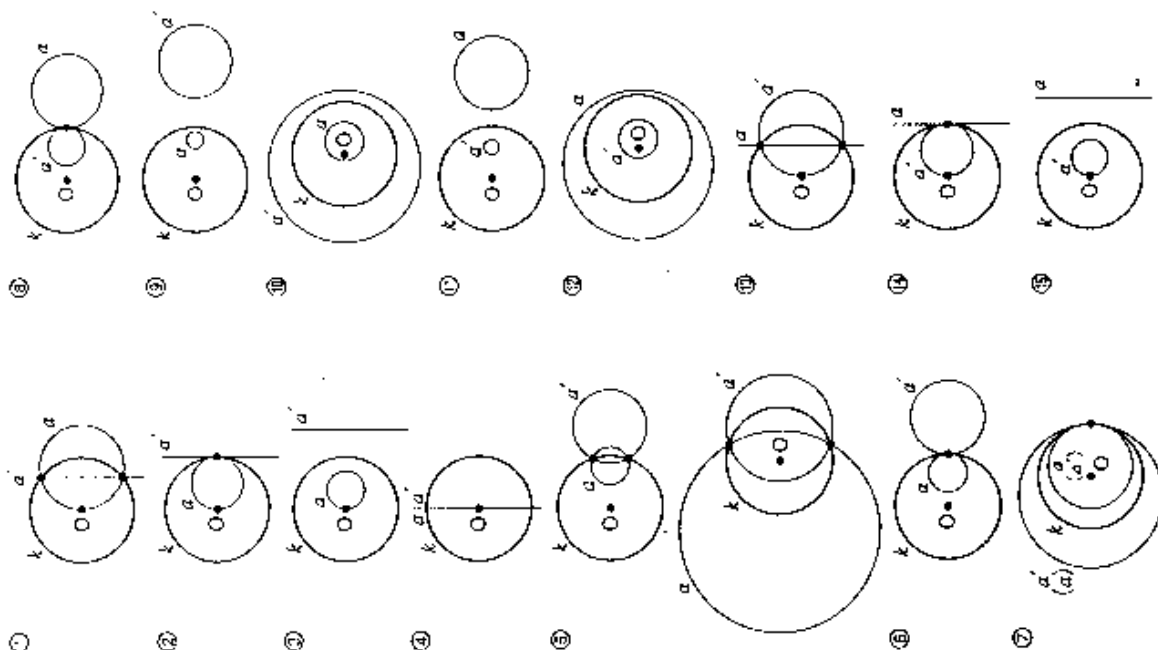


- (1) どんな図形になるか予想してみよう。
- (2) カブリ を使って作図してみよう。
(作図方法) 課題 1 と同様に、点 P' を作図し、軌跡を描く。
- (3) 作図の結果、円 C3 はどんな図形に移りましたか。

課題4 円C3の半径を変えてみるとP'の軌跡はどうなるか考えてみよう。
(点C3をドラッグして実際に動かしてみよう。)

課題5 円C3が、反転円Oと2点で交わるときのP'の作図方法を考えよう。

9. 反転のまとめ



(9-19) 円周 k に関する、円周と直線の反転 $\alpha \rightarrow \alpha'$

(『定規とコンパスで読む数学』 大野栄一著 講談社)

参考

● 円周 k の中心 O を通るとき、	1 → 2 交点を通る直線
	3 → 4 接点を通る直線 (接線)
円周	5 → 6 k と交わっているとき
	7 → 8 k と接しているとき
直線	9 → 10 k と共有点がないとき
	11 → 12 直線 (同じもの)
● 円周 k の中心 O を通らないとき、	13 → 14 2 交点を通る円周
	15 → 16 k と交わっているとき
円周	17 → 18 内接 O を含まない
	19 → 20 外接 O を含む
直線	21 → 22 外接 O を含む
	23 → 24 内接 O を含む
● 円周 k の中心 O を通らないとき、	25 → 26 k と交わっているとき
	27 → 28 k と接しているとき
円周	29 → 30 内接 O を含む
	31 → 32 外接 O を含む
直線	33 → 34 内接 O を含む
	35 → 36 外接 O を含む

(9-18) 円周 k に関する、円周と直線の反転



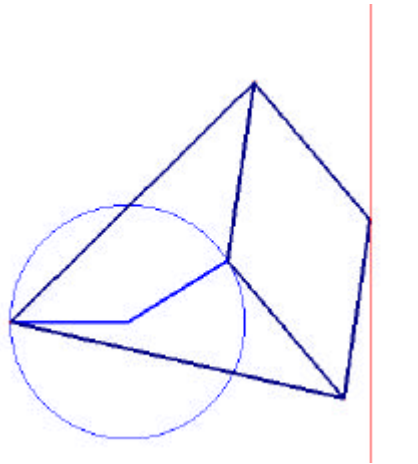
参考

10. Peaucellier の反転機 (inversor)

直線を描く反転機

このリンクージは2本の長い長さの等しい棒と4本の短い長さの等しい棒と1本の棒からできている。

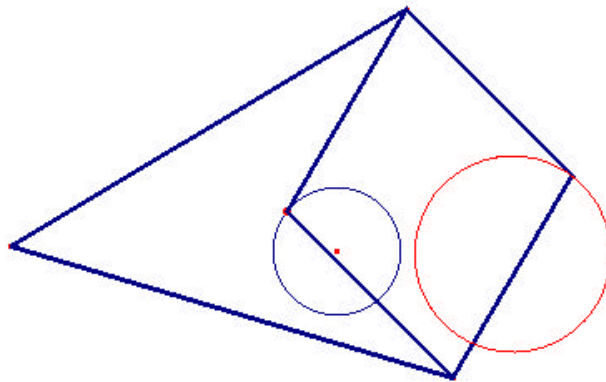
(構造)



円を描く反転機

このリンクージは2本の長い棒と4本の短い棒からできている。
長い2本はOを支点に固定されている。

(構造)



same as before, and it is only the cell which will undergo alteration.

If I take the two linkages in Fig. 8, which are known as the "kite" and the "spear-head," and place one on the other so that the long links of the one coincide with those of the other, and then amalgamate the coincident long links together, we shall get the original cell of Figs. 5 and 7. If then we keep the angles between the long links, or

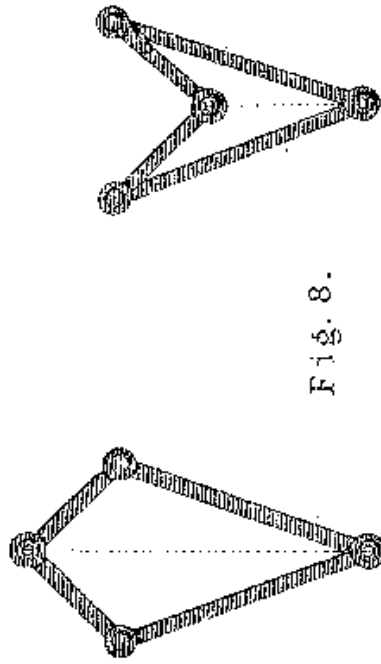


Fig. 8.

angle between the short links, the same in the "kite" and "spear-head," we see that the height of the "kite" multiplied by that of the "spear-head" is constant.

Let us now, instead of amalgamating the long links of the two linkages, amalgamate the short ones. We then get the linkage of Fig. 9; and if the pivot where the short links meet is fixed, and one of the other free pivots be made to move in the circle of Fig. 6 by the extra link, the other will describe, not the straight line $P'M$, but the straight line $P'M'$. In this form, which is a very compact

one, the motion has been applied in a beautiful manner to the air engines which are employed to ventilate the

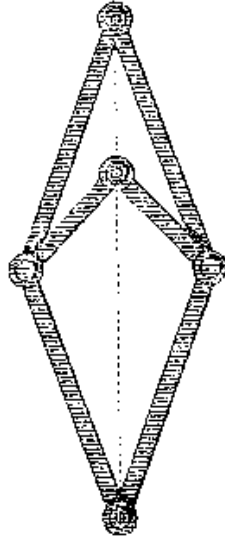


Fig. 9.

Houses of Parliament. The ease of working and absence of friction and noise is very remarkable. The engines were constructed and the Peaucellier apparatus adapted to them by Mr. Prim, the engineer to the Houses, by whose courtesy I have been enabled to see them, and I can assure you that they are well worth a visit.

Another modification of the cell is shown in Fig. 10. If instead of employing a "kite" and "spear-head" of the

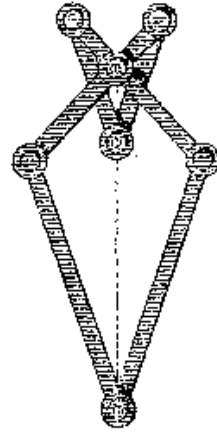


Fig. 10.

same dimensions, I take the same "kite" as before, but use a "spear-head" of half the size of the former one,

How to draw a straight line

1864年に、Wattの発見後80年、その問題はフランス陸軍の将校であるM. Peaucellierによって解決された。彼の発見はその本当の価値に対して最初評価されず、ほとんど世間から忘れられた。そしてLipkinという名のロシアの学生（彼はその期待された独創性に対してロシア政府から報酬を得た）によって再発見された。しかしながら、M. Peaucellierのメリットはついに認められ、“Prix Montyon”というフランスの学会の偉大な機械学の賞を与えられた。

M. Peaucellierの器械は図5に示されている。それには、あなたが見るように、7つの部品すなわちリンクがある。最初に共に長さの等しい2つの長いリンクがある。これらは両方とも同じ固定点で軸につけられる；それらの他方の先端は、4つの等しい短いリンクで構成されるひし形の反対側の角で軸につけられる。私がこのように以前に記述した器械の部分は、固定された基盤から離れてとらわれるが、“Peaucellier cell”と名づけられたリンケージである。私たちはそれから、追加のリンクをする。そしてそれを固定点（最初の固定点からの距離が追加のリンクの長さと同じで、それに対してセルが回転される）に対して回転させる；残った追加のリンクの先端はそのときひし形の自由な角の一つに回転軸をつけられる；残ったひし形の自由な角にはその回転軸で鉛筆がある。その鉛筆は正確に直線を描くだろう。

私は今、少し簡単な幾何学を与えなければならない。あなたが我々の器械の原理を理解できるように私がそのようなことをすべきであるのは絶対に必要である。

図6で、QCは固定点Qに回転軸をつけられ、他方がそれを軸にCで回転する追加のリンクである。そして円OCRを描く。直線PMと直線P'M'はMRQOM'に垂直であると考えられる。

今、角OCR（半円上の角）は直角である。ゆえに三角形OCR、三角形OMPは相似である。ゆえに、

$$OC : OR = OM : OP$$

ゆえに、

$$OC \cdot OP = OM \cdot OR$$

ここでCはいつでも円上にある。すなわち、OMとORはともに定数であるので、もしCが円上で動く間PがQ、C、Pがいつも同じ直線上にあるように動きかつ、 $OC \cdot OP$ がいつも定数であるように動いたら；Pは線分OQに垂直な直線PMを描くだろう。

もし我々がOの反対側に点Pをとり、 $OC \cdot OP$ が定数ならばPが直線P'Mを描くだろうということも明らかである。このことはやがて重要であるとみなされるだろう。

今、図7にいくと、我々はセルの構造の対称から、O、C、Pがすべて同じ直線上にあり、もし直線AnがCPに垂直に描かれたらCnはnPに等しいことがわかる。

今、

$$OA^2 = On^2 + An^2$$

$$AP^2 = Pn^2 + An^2$$

ゆえに、

$$\begin{aligned} OA^2 - AP^2 &= On^2 - Pn^2 \\ &= (On - Pn) \cdot (On + Pn) \\ &= OC \cdot OP \end{aligned}$$

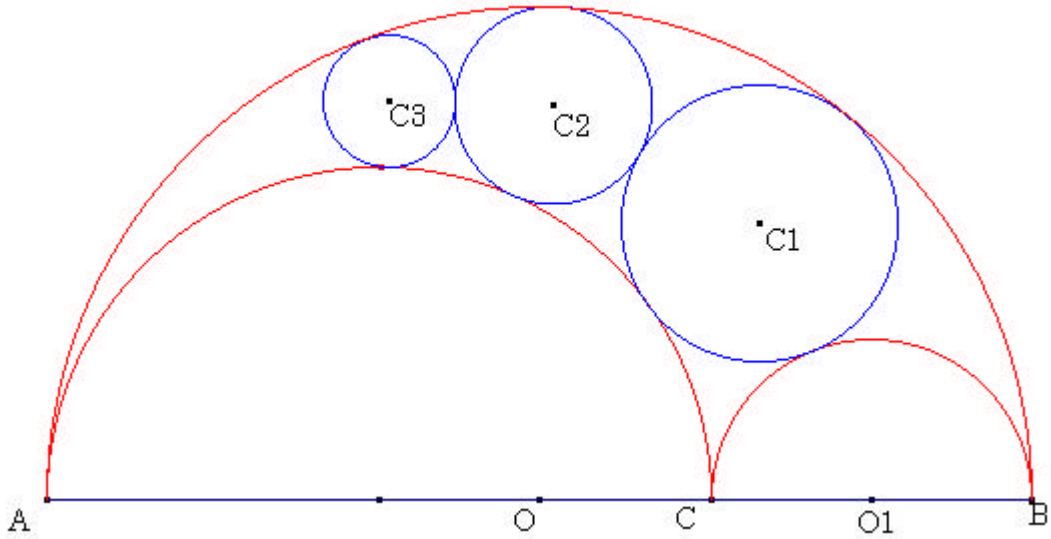
従って、OAとAPは共に定数であるので $OC \cdot OP$ はいつも定数である。しかしながら、遠くか近くでCとPはOの方にあるかもしれない。もしそのとき、回転軸Oが図6において点Oで固定され、回転軸Cが、追加のリンクの先端で回転することによって、図で円を描くように作られたら、回転軸Pは直線上でPが動くようにさせるの必要なすべての条件を満たすだろう。そしてもし鉛筆がPで固定されたら、それは直線を描くだろう。

固定された回転軸からの線分の長さはもちろん量 $OA^2 - AP^2$ (勝手に値を取るかもしれない) の大きさに依存する。

私が今あなたにセルのいくつかの修正を記述してもらいたいように、私はあなたがその器械を構成する2つの要素、追加のリンクとセル、それぞれが動く部分をはっきりと理解することを望む。追加のリンクは依然と同じままであるだろう。そしてそれは Iteration を経験するセルだけだろう。

13. 演習問題

アルベロスに内接する円を実際にカブリを使い反転して、その図から実際に円 C_3 の直径とその中心の線分 AC からの距離をはかって、それがパップスの主張にあっていいることを確かめてみよう。



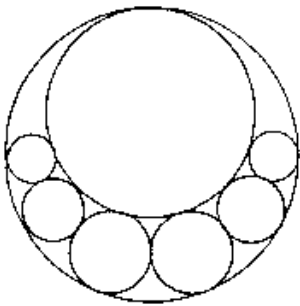
14. 日本における円環問題

参考 日本においてもパップスの円環問題に似た問題が考えられてきた。

(埼玉県史料集 第二集「埼玉の算額」 埼玉県立図書館編)

算額とは、神社や仏閣に奉納した数学の絵馬である。江戸時代中期、寛文年間の頃から始まった風習といわれ、現在全国に約820面の算額が現存しています。算額は、数学の問題が解けたことを神仏に感謝し、益々勉学に励むことを祈願して奉納されたと思われます。人の集まる神社仏閣を発表の場とし、難問や問題だけを書いて解答を付けないで奉納するものも現われ、その問題を見て解答を算額にしてまた奉納するといったことが行われました。算額奉納の習慣は世界に例を見ず、日本独自の文化であり、明治になり洋算の導入を容易にしたのも算額を奉納する風習が貢献しました。

(「和算の館」より <http://www.asahi-net.or.jp/~NJ7H-KTR/>)



于時安致三丙辰春三月

止圓密合問

術曰以容區數除外圓徑得至大

容區如左術

數得至止圓密術如左

●今有知圓區內容幾圓及幾區

乃不動密偶 若外圓徑若干問幾密區

距離合問

術三除以源大容半乘幾圓徑得

容區以大小容差除徑得幾圓徑

以一個極強守術求至乘小

容區以大小容和除之加大容區

術曰如左術

距離術如左

●今有知圓扇紙形紙使中心點

鈞之權平大小容各若干紙徑若干問

距離術如左

術曰如左術

●今有知圓扇紙形紙使中心點

鈞之權平大小容各若干紙徑若干問

距離術如左

術曰如左術

●今有知圓扇紙形紙使中心點

鈞之權平大小容各若干紙徑若干問

距離術如左

術曰如左術

●今有知圓扇紙形紙使中心點

鈞之權平大小容各若干紙徑若干問

距離術如左

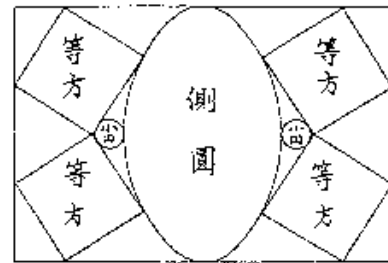
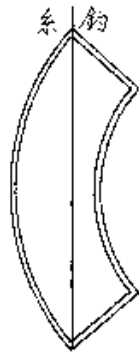
術曰如左術

●今有知圓扇紙形紙使中心點

鈞之權平大小容各若干紙徑若干問

距離術如左

術曰如左術



湖流戸田新三郎氏常門人

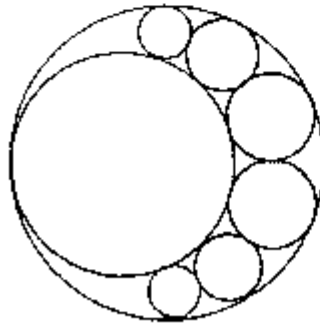
四六 川越市山田府川一五三八

八幡神社

(下に六十三名の門人名を載す)

八七

正割併合制
内口以外割数除外は徑徑至大



外口 内口 大荷

今右如圖内割徑及素徑
既此六割數 其外知素徑 則隨卷圖
系統至内割徑兼証何

(問題並び解の現代的解釈)

今題の如く内口に素徑及素徑(すなわち、内割に寄りて動かし、仮りに六割を並く)を容る。其の外口徑若し、同じ容円數に隨つて内止口徑を得るの類如何と。

卷に口く素徑の如し。

内割に口く容円數を以て外口徑を除すれば至大止口徑を得て問に合す。

(問題並び解の現代的解釈)

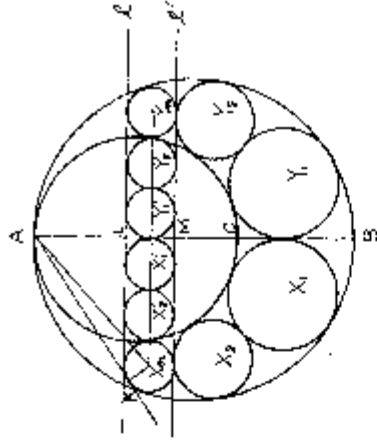
今圖の如く外口に素徑を内割させ素徑に接し内割に接する素徑を内割に入れる。仮りに六割を並く。外口徑を与えたととき、素徑の最大値を容円數に従つて求める方法を問う。

内割 止口徑の最大値 ~ 外口徑 : 容円數

(現代的解法) 素円數を n とする。(n は偶數 $2m$)

外口と素円との接点 A を通る内割の直徑を AB 、 AC とする。

果円の中心を圖の如く X_1, X_2, \dots, X_m 及び Y_1, Y_2, \dots, Y_m とす。止口 X_m, Y_m に接する 2 直線 ℓ, ℓ' をひき直徑 AB との交点を L, M とし、 LM の中点を N とする。



果円は直徑 AB に対して素徑に配置されているから、内 X_m と内 Y_m は等円である。

ℓ, ℓ' は共に AB に垂直となる。

A より止口 X_m に引いた接線を AK とする。

$AB = a, AC = t, AK = k$ とする。

今 A を中心とし k^2 を半として全部の内に長形裏換を施す。(すなわち各円周上の一点 Q と A を結び、 AQ 又はその延長上に P をとり、 $AP \cdot AQ = k^2$ とする。 Q を各円周に就動かして P の軌がく何跡を作る。)

この変換によつて内 X_m, Y_m はそれぞれ自身に外内は直線 ℓ に接する直線 ℓ' に、果円 $X_1, X_2, \dots, Y_1, Y_2, \dots$ はそれぞれ内 X_1', Y_1', Y_2', \dots 及び内 Y_1', Y_2', \dots 及び内 Y_2', \dots 裏換され、内 X_1', X_2', \dots, X_m 及び内 Y_1', Y_2', \dots, Y_m はみな ℓ, ℓ' に接しかつ互に相接する等円である。

$AL = \frac{k^2}{a}, AM = \frac{k^2}{a}, PL = X_m, PY_m$ の直徑を $2r$ とすると

$$2r - ML = \frac{k^2}{t} \cdot \frac{k^2}{a} - k^2 \left(\frac{1}{t} - \frac{1}{a} \right) \therefore r = \frac{k^2}{2} \left(\frac{1}{t} - \frac{1}{a} \right)$$

直角三角形 AKX_m において $AX_m^2 = k^2 - r^2$

$$X_m N = (n-1)r, \quad AN = \frac{k^2}{a} + r$$

直角三角形 $AX_n N$ より $AX_n^2 = X_n N^2 + AN^2$

$$\text{故に } \left(\frac{k^2}{a} + r\right)^2 + (n-1)^2 r^2 = k^2 + r^2$$

これより $k \neq 0$ だから

$$k^2 = (n-1)^2 \left(\frac{1}{t} - \frac{1}{a}\right)^2 + \frac{1}{a} \left(\frac{1}{t} - \frac{1}{a}\right) + \frac{1}{a^2}$$

$$\text{よって } 2r = \frac{(n-1)^2 \left(\frac{1}{t} - \frac{1}{a}\right)^2 + \frac{1}{a} \left(\frac{1}{t} - \frac{1}{a}\right) + \frac{1}{a^2}}{\frac{1}{t} - \frac{1}{a}}$$

今 $\frac{1}{t} - \frac{1}{a} = x$ とおけば $x > 0$ $2r$ を $f(x)$ とおくと

$$f(x) = \frac{x}{(n-1)^2 x^2 + \frac{1}{a} x + \frac{1}{a^2}}$$

$$f'(x) = \frac{1}{\left\{ \frac{(n-1)^2}{4} x^2 + \frac{1}{a} x + \frac{1}{a^2} \right\}^2} \times \left\{ \frac{1}{a^2} - \frac{(n-1)^2}{4} x^2 \right\}$$

$f'(x) = 0$ を満足する x の値は $x = \frac{2}{a(n-1)}$

$$\begin{array}{l} x \dots \dots \frac{2}{a(n-1)} \dots \dots \\ f(x) \uparrow + 0 \dots \dots \\ f(x) \downarrow \text{最大} \dots \dots \end{array}$$

よって $x = \frac{2}{a(n-1)}$ のとき $f(x)$ すなわち止円の直径は最大となる。

よって 止円の直径の最大値 $= 2r = f\left(\frac{2}{a(n-1)}\right)$

$$\begin{aligned} &= \frac{(n-1)^2}{4} \times \frac{a(n-1)}{a^2(n-1)^2} + \frac{1}{a} \times \frac{2}{a(n-1)} + \frac{1}{a^2} \\ &= \frac{2}{a(n-1)} \times \frac{a^2(n-1)}{2a} \\ &= \frac{a}{n} \end{aligned}$$

よって止円の直径の最大値 = 外円径 : 累円の個数

幕木の歴算家 法華寺和十郎はその著「続新考算便」においてこれに類した多くの問題を解決している。この問題はその書物に誌るされて居り、その類を掲げた戸田新三郎は法華寺と関係があるものと考えられる。

いずれかを で囲んでください

- 1 数学の時間に外国語の文献を読むことは
必要である どちらともいえない 必要ではない
- 2 数学を歴史的な視点でとらえたことは
ある どちらともいえない ない
- 3 パップスが円環問題を拡張したことは、数学において
意味のあること どちらともいえない 意味のないこと

質問・感想等自由に書いてください

御協力ありがとうございました
筑波大学大学院修士課程教育研究科
保坂高志 竹谷正 野口敬子

いずれかを で囲んでください

- 1 反転の作図をする上で、事前課題をやったことは
役に立った どちらともいえない 役に立たなかった
- 2 作図ツール(カブリ)を使うことで、反転について
よく理解できた 理解できた どちらともいえない
理解できなかった ほとんど理解できなかった
- 3 過去に作られた反転機の構造を考えることは、数学と
関係がある どちらともいえない 関係がない

質問・感想等自由に書いてください

御協力ありがとうございました
筑波大学大学院修士課程教育研究科
保坂高志 竹谷正 野口敬子

